



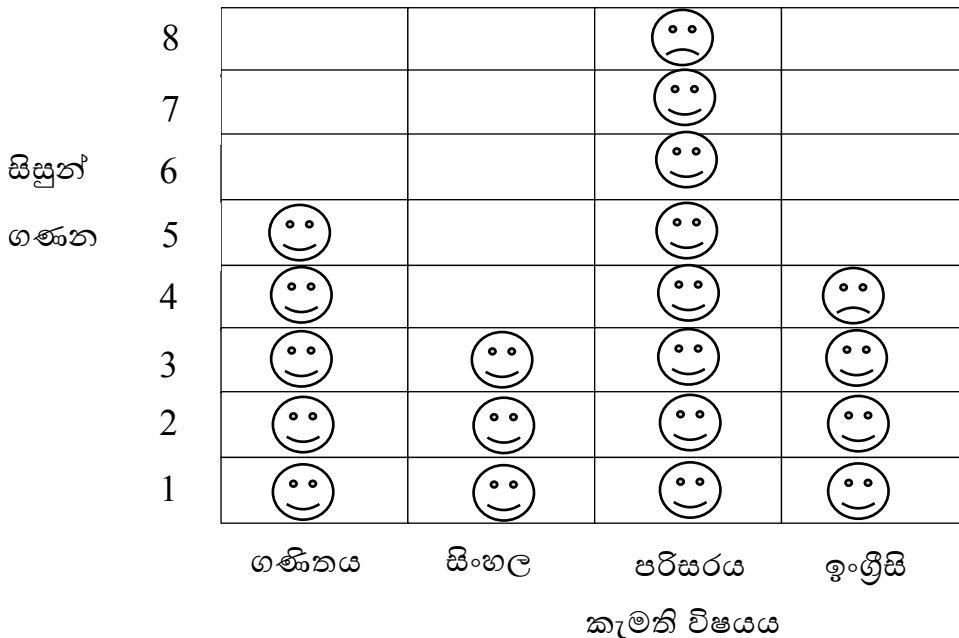
ඊවමන්ඪි විද්‍යාලය - ගාල්ල
 4 ශ්‍රේණිය - 2020
 ගණිතය
 පළමු වාරය පැවරුම් අංක 02

- දෙමව්පියන් සඳහා උපදෙස්,
- මෙම අභ්‍යාස පොතක කරවන්න. හැකි නම් මුද්‍රණය කර දරුවාට ලබා දෙන්න.
- පිළිතුරු පමණක් දරුවාට ලිවීමට සලස්වන්න. ප්‍රශ්න දෙමව්පියන් විසින් ලියා දෙන්න.
- හැකිනම් පිළිතුරු හා අකුරු නිවැරදි කරන්න.
- මෙම අභ්‍යාස වයිබර් කණ්ඩායම් මගින් හුවමාරු කර ගන්න.
- පාසල ආරම්භ වන දිනක මෙම පොත රැගෙන එන්න.
- අවශ්‍ය අවස්ථාවල දී ළමයින්ගේ වැඩවලට දෙමව්පියන් සහය වන්න.

පාඩම් අංක 10 තීර ප්‍රස්තාර

- පහත දැක්වෙන්නේ පන්තියක ළමයි 20 දෙනෙකු විෂයයන් 4 කට කැමැත්ත දැක් වූ ආකාරයයි. එය රූප ප්‍රස්තාරයක් මගින් දක්වා ඇත.

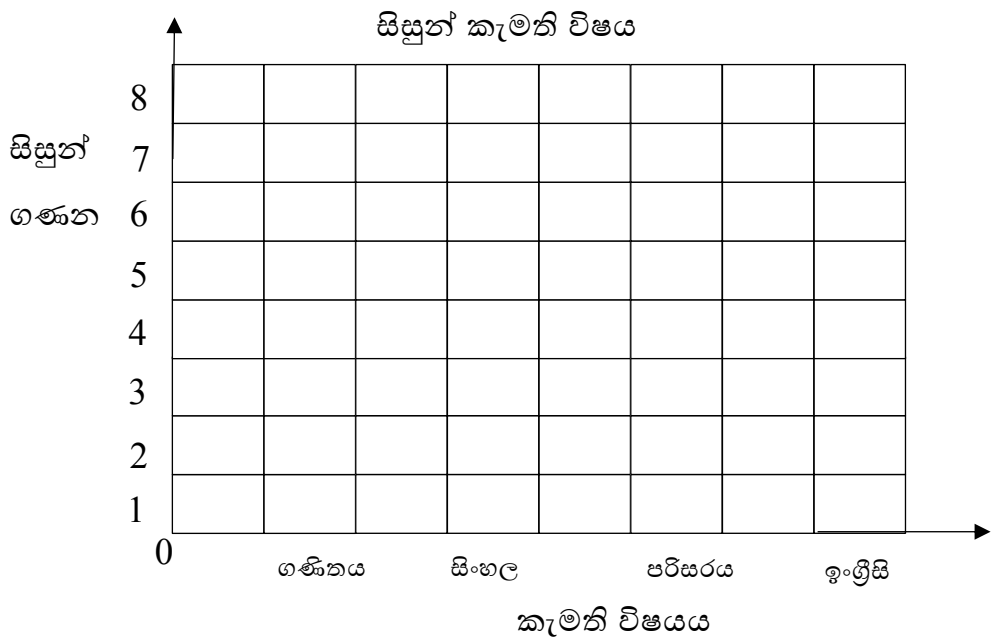
අප කැමති ම විෂයයෝ



- ඉහත රූප ප්‍රස්තාරයේ තොරතුරු පහත වගුවේ දක්වන්න.

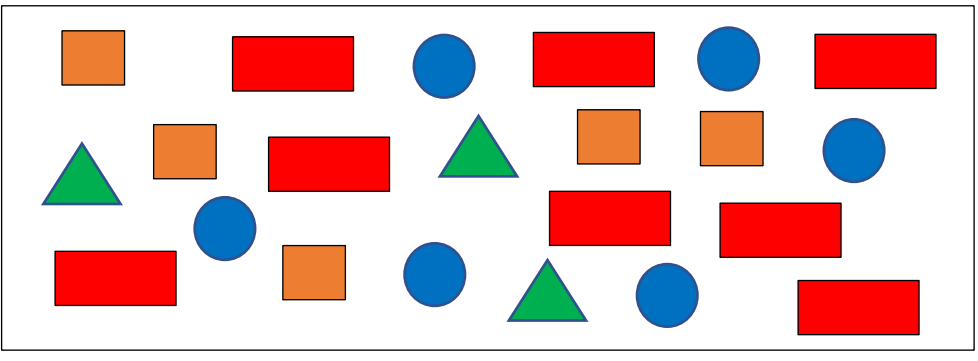
කැමති විෂයය	සිසුන් ගණන
ගණිතය	
සිංහල	
පරිසරය	
ඉංග්‍රීසි	

- ඉහත තොරතුරු පහත තීර ප්‍රස්තාරයේ දක්වන්න. (දෙමව්පියන් මෙම තීර ප්‍රස්තාරය ඇඳ ගැනීමට උදවු ලබා දෙන්න.)



1. සිසුන් වැඩි ම ගණනක් කැමති විෂය කුමක් ද?
2. සිසුන් අඩු ම ගණනක් කැමති විෂය කුමක් ද?
3. ගණිතය හා සිංහල විෂයයන්වල එකතුව සමාන වන්නේ කුමන විෂයට ද?
.....
4. ගණිතය විෂයට වඩා පරිසරය විෂයට කැමති සිසුන් ගණන කීය ද?
5. සිංහල විෂයට වඩා පරිසරය විෂයට කැමති සිසුන් ගණන කීය ද?

- පහත දැක්වෙන ක්‍රියාකාරකම කරන්න.
- පහත කොටුවේ ඇති හැඩතල ගණන් කර වගුවේ ලියන්න.



හැඩතලයේ නම	හැඩතල ගණන
සමචතුරස්‍රය	
ත්‍රිකෝණය	
වෘත්තය	
සෘජුකෝණාස්‍රය	

