



රිච්මන්ඩ් විද්‍යාලය Richmond College

තෙවන වාර අවසාන නිපුණතා අනාවරණ පරීක්ෂණය - 2019

දෙමළ






නම / අංකය : ..... 3 ශ්‍රේණිය ..... කාලය පැය 01 මිනිත්තු 15 යි.

01.) සිංහල වාක්‍යයට ගැලපෙන පරිදි හිස්තැනට සුදුසු වචනය තෝරා ලියන්න.

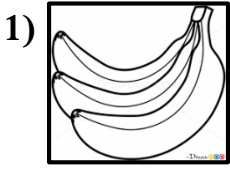
උල්ලේ / පෙයර් / උංගල් / ජේතෙන / ඌර්

- 1) ඔයාගේ ගම කොහේ ද?                      උංගල් ..... එදු?
- 2) ඔයාගේ වයස කීය ද?    ..... වයදු එත්තතෙන?
- 3) මට පැනක් දෙන්න.    එනක්කු ..... තාරුංගල්.
- 4) මම ඇතුළට එන්න ද?    නාන් ..... වරලාමා?
- 5) මගේ නම අමල්.    එනදු ..... අමල්.

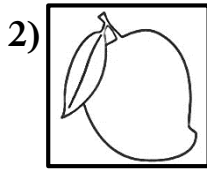
02.) පහත රූපවලට ගැලපෙන දෙමළ වචනය සිංහලෙන් ලියන්න.

- 1)  → .....  
.....
- 2)  → .....  
.....
- 3)  → .....  
.....
- 4)  → .....  
.....
- 5)  → .....  
.....

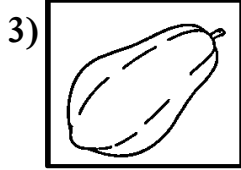
03.) එක් එක් පලතුරට කියන දෙමළ නම තෝරා යටින් ඉරක් අඳින්න.




මාම්පළම්  
වාලෙප්පළම්




මාම්පළම්  
අන්තාසිප්පළම්



තෝඩම්පළම්  
පප්පාසිප්පළම්



තෝඩම්පළම්  
මාම්පළම්



පම්බු  
අප්පිල්පළම්

04.) පහත දී ඇති ප්‍රකාශ වල සිංහල තේරුම ලියන්න.

1) එනක්කු තණ්ණීර් තාරුංගල්.

.....

2) ඉනිය පුත්තාණ්ඩු වාල්ත්තුක්කල් !

.....

3) ඉදු එනදු පාඩසාලෙ.

.....

4) නාන් වෙලියේ පෝහලාමා ?

.....

5) ඉංගේ ඉරුංගල්.

.....

05.) පහත වචන වල දෙමළ තේරුම සිංහල අකුරෙන් ලියන්න.

1) ආයුබෝවන් - .....

2) සිටගන්න - .....

3) ස්තුතියි - .....

4) වාඩ්වෙන්න - .....

5) මාම්පළම් - .....


06.) වරහන් තුළින් තෝරා මල්වලට සුදුසු නම ලියන්න.

(කාමරෙප් පූ , අරලිප් පූ , මල්ලිහෙප් පූ , සූරියකාන්තිප් පූ , රෝපාප් පූ)


1)




2)



3)



4)



5)



07.) නිවැරදි පිළිතුර තෝරා යා කරන්න.

- |            |      |
|------------|------|
| 1) ඉරණ්ඩු  | - 6  |
| 2) ඵෙත්ඳු  | - 4  |
| 3) එව්වු   | - 10 |
| 4) මුත්රු  | - 2  |
| 5) පත්තු   | - 8  |
| 6) ආරු     | - 3  |
| 7) ඔත්බ්දු | - 5  |
| 8) නාන්ගු  | - 7  |
| 9) ඔත්රු   | - 9  |
| 10) ඵ්ඵ    | - 1  |

08.) රූපයට අදාළ වචනය වරහන් තුළින් තෝරා ලියන්න.

( වහුප්පු / මලසලකුඩම් / නූලහම් / විලෙයාට්ටු මෙමදානම් )


1)



2)



3)




.....

.....

.....

4)



.....

09.) පහත ශරීරයේ කොටස් වරහන් තුළින් තෝරා නම් කරන්න.

( කෙ , මුක්කු , තලෙ , කණ , කාල් )

1)



2)



3)



.....

.....

.....

4)




5)



.....

.....

10.) ඉලක්කම් අනුව පින්තූරය පාට කරන්න.



1. නීල නිරම්.
2. මඤ්ජල් නිරම්.
3. පව්වෙවෙ නිරම්.
4. සිවප්පු නිරම්.
5. කරුප්පු නිරම්.