

රිච්මන්ඩ් විද්‍යාලය - ගාල්ල
3 ශ්‍රේණිය - 2020
ගණිතය
දෙවන වාර පාඩම් අභ්‍යාස - 04


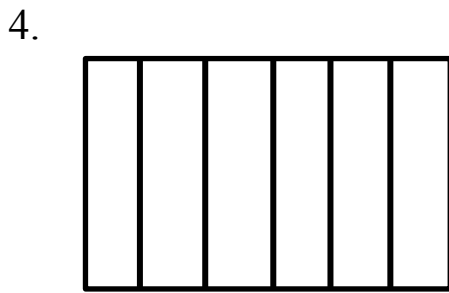
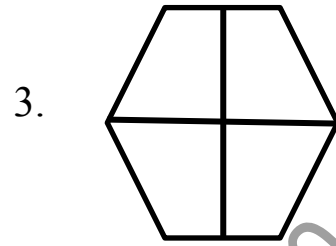

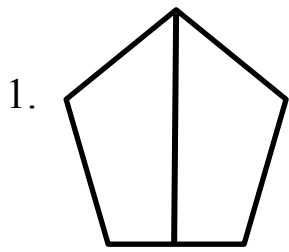


(2020.05.01 දින සිට 2020.05.04 දක්වා)

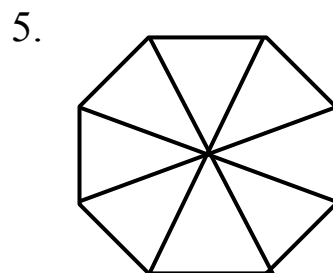
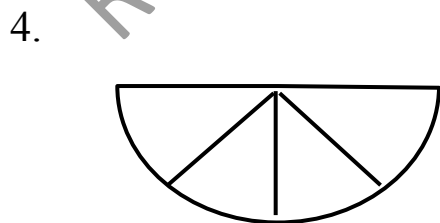
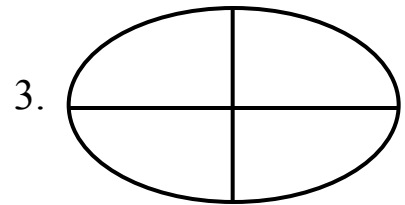
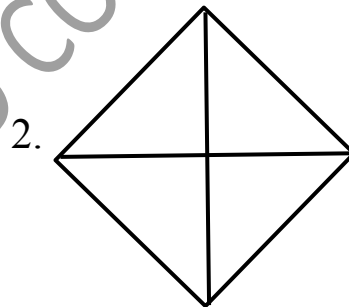
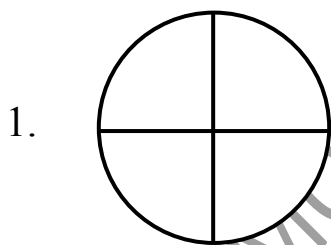
22. බෙදීමේ ගැටලු විසඳන්න.

- 1) ජේර ගෙඩි 8ක් නේණක් හා සෙන් අතර සම සේ බෙදා ගන්නා. එක් අයෙකුට ලැබෙන ජේර ගෙඩි ගණන කීය ද?
- 2) පොත් 14ක් පමිත හා කෙනුල යන දෙන්නා සම සේ බෙදා ගන්නා. එක් අයෙකුට ලැබෙන පොත් ගණන කීය ද?
- 3) ජම්බු ගෙඩි 18ක් අවිශ්ක හා නොත්ම් අතර සම සේ බෙදා ගන්නා. එක් අයෙකුට ලැබෙන ජම්බු ගෙඩි ගණන කීය ද?
- 4) ටොලි 9ක් දෙදෙනෙකු සමානව බෙදා ගත් විට එක් අයෙකුට ටොලි කීය ද?
..... ඉතුරු ටොලි ගණන කීය ද?
- 5) මකන 9ක් දෙදෙනෙකු සමානව බෙදා ගත් විට එක් අයෙකුට මකන කීය ද?
..... ඉතුරු දකන ගණන කීය ද?

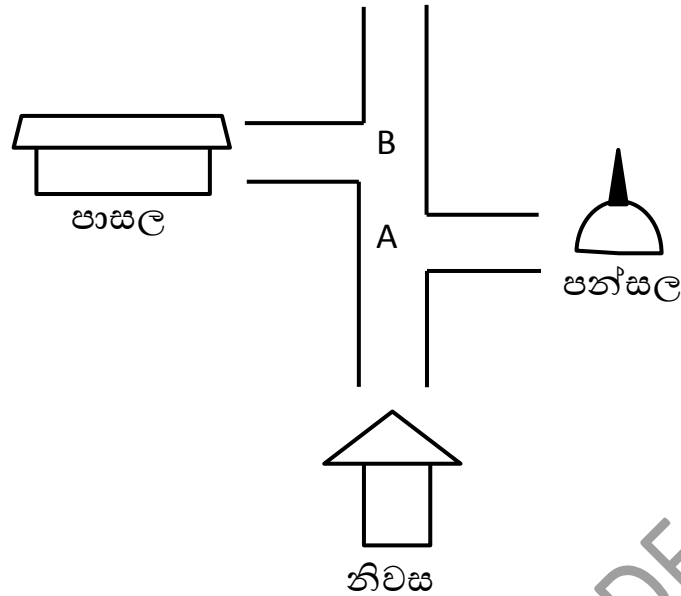
23. පහත රූපවල බාගයක් බැගින් පාට කරන්න.



24. පහත රූපවල කාලක් බැගින් පාට කරන්න.



25. පහත මාර්ගය දෙස ගමන් කර පහත ප්‍රශ්නවලට පිළිතුරු ලියන්න.



- 1) නිවසේ සිට ඉදිරියට ගොස් B ස්ථානයෙන් වම් අත පැත්තට හැරී ඉදිරියට ගිය විට හමුවන්නේ කුමක් ද?
- 2) නිවසේ සිට ඉදිරියට ගොස් A ස්ථානයෙන් දකුණු අත පැත්තට හැරී ඉදිරියට ගිය විට හමුවන්නේ කුමක් ද?

RICHMOND COLLEGE - GRADE 3 - 2020